

**EDITAL DE ABERTURA DO CONCURSO PÚBLICO
PREFEITURA DE FORMOSA - GO Nº 03/2014**

GUARDA MUNICIPAL

Caderno de Prova

LEIA COM ATENÇÃO AS INSTRUÇÕES ABAIXO

Prezado(a) Candidato(a),

1. Ao receber este caderno, confira se ele contém as questões objetivas com 40 (quarenta) itens, ordenados de 1 a 40, com alternativas de A a E; sendo que apenas uma alternativa é correta. Caso o caderno esteja incompleto ou tenha qualquer defeito, solicite ao Fiscal de Sala as providências cabíveis.

2. Durante a prova não poderá ser utilizado nenhum material de consulta. Não se comunique com outros candidatos, não use chapéu, óculos escuros, relógio e nem se levante sem autorização do Fiscal de Sala.

3. O cartão-resposta deverá ser preenchido, pelo(a) candidato(a) com caneta esferográfica TRANSPARENTE de tinta azul ou preta, devendo cobrir inteiramente o espaço correspondente à alternativa escolhida. O cartão não poderá ser rasurado, dobrado ou amassado. Não haverá substituição de cartão-resposta.

MARQUE ASSIM

NÃO MARQUE ASSIM



4. A assinatura do(a) candidato(a) no cartão-resposta é necessária e fundamental para sua identificação.

5. No momento da identificação, o(a) candidato(a) deverá escrever, no espaço apropriado do cartão-resposta, com a sua caligrafia usual, a seguinte frase:

Pedofilia é crime, denuncie.

6. O tempo máximo de duração da prova é de 3 (três) horas, incluindo o preenchimento do cartão resposta, contadas a partir da autorização dada pelo Fiscal de Sala.

7. O(a) candidato(a) somente poderá entregar a prova depois de transcorrida, pelo menos, 1 (uma) hora de seu início. Após a entrega, o(a) mesmo(a) deverá retirar-se da sala e do local de prova, não podendo mais ir ao banheiro.

8. Os três últimos candidatos deverão permanecer na sala de prova e somente poderão sair juntos do recinto após a aposição em ata de suas respectivas assinaturas.

9. O(a) candidato(a) poderá levar o caderno de questões, SOMENTE, 15 minutos antes do término da prova.

10. O não cumprimento a qualquer uma das instruções deste caderno e do edital nº 01/2014 poderá implicar na anulação da sua prova.

11. A avaliação da prova objetiva levará em consideração somente as respostas transferidas para o cartão-resposta.

12. Caberá recurso sobre o conteúdo da prova em até 2 (dois) dias úteis após a divulgação do gabarito, que estará disponível no site www.ibeg.org.br.

Desejamos sucesso!
Coordenação Geral do Concurso Público

LÍNGUA PORTUGUESA

Leia atentamente o texto a seguir e responda às questões de 01 a 05.

Texto I - Engajados, 60 mil jovens menores de 18 anos tiram título de eleitor em 2013 no DF

(...) Entre 16 e 18 anos, cerca de 60 mil jovens brasileiros tiraram o título de eleitor de janeiro a outubro de 2013. Antes do encerramento do prazo dos novos cadastros, em 7 de maio de 2014, a expectativa é de que mais 25 mil pessoas nessa faixa etária se dirijam ao Tribunal Regional Eleitoral (TRE) para se habilitarem ao pleito de 2014.

(...) O cadastro termina 150 dias antes da eleição devido ao procedimento administrativo do Tribunal Superior Eleitoral (TSE) para preparar o processo. Como as votações são off-line, por medida de segurança, é preciso inserir dados nas urnas, preparar seções de votação. “Até a data limite, ele pode vir mesmo se tiver 15 anos, basta que complete 16 até o dia das eleições”, confirma o secretário da Escola Judiciária Eleitoral do DF Rui Barbosa, Ronaldo Franco.

Mesmo com o voto facultativo para a faixa etária, a estudante Marina Furlan, 17 anos, não quer perder tempo. Separou os documentos necessários — Carteira de Identidade e comprovante de residência — e foi até o TRE nas férias escolares. “Mesmo que não seja obrigatório é responsabilidade do cidadão votar. Se tenho consciência do que é melhor para o país, por que não expressar o que penso nas urnas?”, indaga a jovem. Entre dezembro e janeiro, Marina já deve estar com o documento em mãos. “Vai chegando perto das eleições e a gente começa a pensar mais sobre isso. Acho importante votar no candidato certo”, ressalta.

Por Manoela Alcântara. Disponível em: <http://www.correiobraziliense.com.br/app/noticia/cidades/2013/11/09/interna_cidadesdf,397952/engajados-60-mil-jovens-menores-de-18-anos-tiram-titulo-de-eleitor-em-2013.shtml>. Acesso em 09 set. 2014, com adaptações.

QUESTÃO 01

Considerando as informações do texto e as relações entre elas, marque a alternativa correta.

(a) Os 60 mil jovens brasileiros, de 16 a 18 anos, tiraram o título de eleitor de janeiro a outubro de 2013.

(b) Antes do encerramento do prazo dos novos cadastros, em 7 de maio de 2014, a expectativa era de que mais de 25 mil pessoas jovens se dirijam ao Tribunal Regional Eleitoral (TRE) para se habilitarem ao pleito de 2014.

(c) Segundo Ronaldo Franco, jovens de 15 anos podem tirar o título de eleitor até a data das eleições desde que completem 16 anos.

(d) Marina Furlan, mesmo não sendo obrigada a votar, foi até o TRE nas férias escolares para tirar o seu título.

(e) Carteira de Identidade e comprovante de residência são alguns dos documentos necessários para a retirada do título de eleitor.

QUESTÃO 02

Relacionando o propósito principal do texto à linguagem nele utilizada, pode-se dizer que a autora

(a) faz uso predominantemente da função referencial, já que a sua finalidade principal é informar o leitor acerca de um fato.

(b) valoriza, em primeiro lugar, a função emotiva ou expressiva, pois seu intuito principal é registrar as suas impressões sobre o

voto dos jovens menores de 18 anos.

(c) explora apenas a função metalinguística, pois a sua principal intenção é explicar ao leitor alguns conceitos relativos ao voto facultativo.

(d) emprega exclusivamente a função apelativa, já que o seu principal intuito é convencer os jovens menores de 18 anos a tirarem o título de eleitor.

(e) dá mais importância à função poética, pois recorre frequentemente à conotação para descrever o fato de que certos jovens brasileiros tiraram o título de eleitor mesmo não sendo obrigados a votar.

QUESTÃO 03

A respeito dos mecanismos de coesão utilizados pela autora, marque a alternativa correta.

(a) O vocábulo destacado, em “a expectativa é de que mais 25 mil pessoas nessa faixa etária se dirijam ao Tribunal Regional Eleitoral (TRE) para se habilitarem ao pleito de 2014.” (1º parágrafo), foi empregado para antecipar uma informação que será apresentada no parágrafo seguinte.

(b) Na oração “para se habilitarem ao pleito de 2014.” (1º parágrafo), o vocábulo em destaque introduz uma explicação sobre o conteúdo da oração anterior.

(c) No período “Como as votações são off-line, por medida de segurança, é preciso inserir dados nas urnas” (2º parágrafo), a conjunção destacada relaciona duas orações por meio da ideia de comparação.

(d) Na oração “Mesmo com o voto facultativo para a faixa etária, a estudante Marina Furlan, 17 anos, não quer perder tempo.” (3º parágrafo), o trecho destacado estabelece uma condição em relação ao conteúdo declarado posteriormente.

(e) No período “Separou os documentos necessários — Carteira de Identidade e comprovante de residência — e foi até o TRE nas férias escolares.”, a conjunção “e”, em suas duas ocorrências funciona como um conectivo aditivo.

QUESTÃO 04

Marque a alternativa que, em conformidade com a norma padrão, reproduz o sentido integral do período “Separou os documentos necessários — Carteira de Identidade e comprovante de residência — e foi até o TRE nas férias escolares.”.

(a) Separou os documentos necessários que são Carteira de Identidade e comprovante de residência e foi até o TRE nas férias escolares.

(b) Separou os documentos necessários os quais são Carteira de Identidade e comprovante de residência e foi ao TRE nas férias escolares.

(c) Separou os documentos necessários, que são Carteira de Identidade e comprovante de residência, e foi até o TRE nas férias escolares.

(d) Separou os documentos necessários, onde são Carteira de Identidade e comprovante de residência, e foi até o TRE nas férias escolares.

(e) Foi até o TRE nas férias escolares, separou os documentos necessários que são Carteira de Identidade e comprovante de residência.

QUESTÃO 05

Caso a autora resolvesse substituir por sessão do TRE o termo destacado em “e foi até o TRE nas férias escolares.”, de acordo com a norma padrão, o emprego do sinal indicativo de crase seria

- (a) obrigatório.
- (b) facultativo.
- (c) invariável, pois o substantivo “sessão” não admite o artigo definido feminino.
- (d) invariável, pois “foi” rege apenas a preposição para.
- (e) invariável, pois não se usa a preposição a após a preposição “até”.

Leia com atenção o texto a seguir e responda às questões de 06 a 10.

Texto II - A Novidade

A novidade veio dar à praia
Na qualidade rara de sereia
Metade o busto de uma deusa maia
Metade um grande rabo de baleia

A novidade era o máximo
Um paradoxo estendido na areia
Alguns a desejar seus beijos de deusa
Outros a desejar seu rabo pra ceia

Ó mundo tão desigual
Tudo é tão desigual
O, o, o, o...
De um lado esse carnaval
De outro a fome total
O, o, o, o...

E a novidade que seria um sonho
O milagre risonho da sereia
Virava um pesadelo tão medonho
Ali naquela praia, ali na areia

A novidade era a guerra
Entre o feliz poeta e o esfomeado
Estraçalhando uma sereia bonita
Despedaçando o sonho pra cada lado.

Bi Ribeiro, Herbert Vianna, João Barone & Gilberto Gil. CD Gilberto Gil - Unplugged - MTV Acústico, 1994.

QUESTÃO 06

Com base nas informações do texto, marque a alternativa correta.

- (a) A sereia gera a discórdia entre poetas e esfomeados, fato que, de alguma maneira, serve para representar a desigualdade social.
- (b) A sereia representa o sonho dos poetas e o pesadelo dos esfomeados.
- (c) Tanto para os poetas quanto para os esfomeados, a sereia simboliza a força da sedução da beleza.
- (d) A situação retratada no poema permite concluir que apenas os esfomeados foram derrotados pelos poetas.
- (e) A sereia desperta mais curiosidade nos esfomeados do que nos poetas.

QUESTÃO 07

O modo como cada indivíduo organiza sua fala está diretamente relacionado à mensagem que ele deseja transmitir. Com base nessa informação, pode-se dizer que no texto prevalece a função da linguagem denominada

- (a) referencial.
- (b) apelativa.
- (c) poética.
- (d) emotiva ou expressiva.
- (e) fática.

QUESTÃO 08

Caso os autores resolvessem substituir o termo destacado no verso “A novidade veio dar à praia” por As novidades, a nova redação, conforme a norma padrão, deveria ser

- (a) As novidades vinheram dar à praia.
- (b) As novidades veio darem à praia.
- (c) As novidades vieram darem à praia.
- (d) As novidades vinheram darem à praia.
- (e) As novidades vieram dar à praia.

QUESTÃO 09

Considerando o sentido com o qual os vocábulos “carnaval” e “fome” foram empregados, pode-se dizer que eles mantêm uma relação de

- (a) de sinonímia, pois remetem a realidades relativamente parecidas.
- (b) de sinonímia, pois retratam, em situações diferentes, um mesmo tipo de sensação humana.
- (c) de antonímia, pois representam, em uma mesma situação, reações parecidas.
- (d) de antonímia, pois remetem a realidades opostas.
- (e) de antonímia, pois sugerem, em uma mesma situação de sofrimento, reações opostas.

QUESTÃO 10

Marque a alternativa correta considerando as relações sintáticas da oração “O milagre risonho da sereia / Virava um pesadelo tão medonho”.

- (a) Os termos “O” e “da sereia” classificam-se, respectivamente, como adjunto adnominal e predicativo do sujeito.
- (b) O predicado, por expressar uma ação atribuída ao sujeito, classifica-se como verbal.
- (c) O termo “Virava” indica uma transformação de estado, portanto classifica-se como verbo de ligação.
- (d) O complemento de “Virava” desempenha a função de objeto direto.
- (e) Os termos “um” e “tão” desempenham o mesmo papel em relação a “pesadelo”.

MATEMÁTICA

QUESTÃO 11

A Diretora de uma escola, preocupada em acomodar adequadamente os alunos, nas cadeiras disponíveis, organizou uma pesquisa com 550 alunos e descobriu que 12% (doze por cento) escrevem com as duas mãos (ambidestros), 72% (setenta e dois por cento) escrevem com a mão direita. Quantas cadeiras a escola deverá providenciar para acomodar os alunos que escrevem somente com a mão esquerda (sinistros)?

- (a) 66 cadeiras.
- (b) 154 cadeiras.
- (c) 88 cadeiras.
- (d) 225 cadeiras.
- (e) 72 cadeiras.

QUESTÃO 12

De acordo com a teoria dos Conjuntos, analisar as declarações a seguir:

I - Se todo elemento de um conjunto **A** também for um elemento do conjunto **B**, então dizemos que **A** pertence ao conjunto **B**.

II - Para indicarmos que **A** é subconjunto de **B**, podemos escrever $A \subset B$.

III - Todo conjunto é subconjunto dele mesmo ($A \subset A$).

IV - Se o conjunto **A** não for subconjunto de **B**, escreveremos $B \not\subset A$.

V - \emptyset é subconjunto de qualquer conjunto, $\emptyset \subset A$.

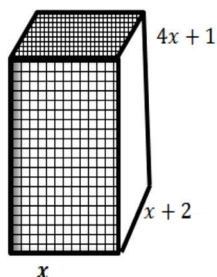
De acordo com as declarações acima, é correto apenas o que se afirma em:

- (a) I, II e IV.
- (b) II, III e IV.
- (c) III, IV e V.
- (d) I, II.
- (e) I, II e III.

QUESTÃO 13

As dimensões de um paralelepípedo retângulo são indicadas na figura, a seguir, em metros: Escreva a equação que dá os valores de quando o volume for 72 m^3 . Sabendo que 2 metros é uma solução desse problema.

- (a) $4x^3 + 9x^2 + 2x - 72 = 0$.
- (b) $x^3 + 4x^2 + x - 2 = 0$.
- (c) $-x^3 + 9x^2 + 2x - 42 = 0$.
- (d) $4x^3 + x^2 + 2x - 2 = 0$.
- (e) $x^3 + x^2 + x - 72 = 0$.



QUESTÃO 14

Um alpinista, ao escalar uma montanha considerada de grau leve, percorre 729 metros na primeira hora, 243 metros na segunda hora, 81 metros na terceira e assim sucessivamente. Determinar o tempo, em horas, necessário para o alpinista completar o percurso de 1.080 metros.

- (a) 1 hora.
- (b) 2 horas.
- (c) 3 horas.
- (d) 4 horas.
- (e) 5 horas.

QUESTÃO 15

Para a fabricação de ônibus escolares, uma indústria montadora precisa de eixos e rodas para os seus três novos modelos, com a seguinte especificação, conforme tabela a seguir:

COMPONENTES	MODELO		
	A	B	C
EIXOS	2	4	3
RODAS	4	8	6

Para os dois primeiros meses do ano, a produção da fábrica deverá seguir a tabela abaixo:

MODELO	MESES	
	JANEIRO	FEVEREIRO
A	15	20
B	10	10
C	5	30

Responda, nessas condições, conforme tabelas apresentadas, quantos eixos e quantas rodas são necessários em cada um dos meses para que a montadora atinja a produção planejada?

- (a) 215 eixos e 430 rodas em janeiro e 154 eixos e 430 rodas em fevereiro.
- (b) 85 eixos e 170 rodas em janeiro e 170 eixos e 340 rodas em fevereiro.
- (c) 115 eixos e 170 rodas em janeiro e 154 eixos e 430 rodas em fevereiro.
- (d) 85 eixos e 340 rodas em janeiro e 154 eixos e 115 rodas em fevereiro.
- (e) 210 eixos e 230 rodas em janeiro e 85 eixos e 430 rodas em fevereiro.

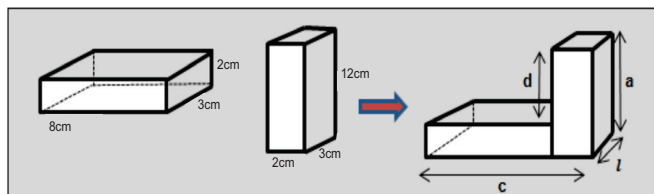
QUESTÃO 16

Em um Feirão Imobiliário, com condições especiais para pequenos aplicadores, um banco estatal financiou um lançamento de um condomínio horizontal nas seguintes condições: em janeiro, aprovou crédito para 236 pessoas; em fevereiro aprovou, para 211 pessoas; em março aprovou mais 186 nomes, e assim por diante. Em que mês serão aprovadas apenas 11 pessoas.

- (a) Outubro.
- (b) Julho.
- (c) Agosto.
- (d) Maio.
- (e) Junho.

QUESTÃO 17

Vamos colar dois blocos retangulares.



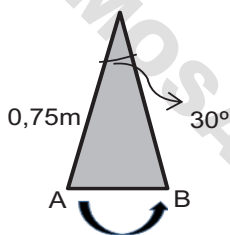
Na forma geométrica que obtivemos, no Quadro acima, quanto medem, nesta ordem, c , l , a , d ?

- (a) 10 cm; 3 cm; 12 cm e 8 cm.
- (b) 8 cm; 2 cm; 8 cm e 12 cm.
- (c) 10 cm; 3 cm; 12 cm e 10 cm.
- (d) 8 cm; 6 cm; 12 cm e 10 cm.
- (e) 8 cm; 3 cm; 12 cm e 12 cm.

QUESTÃO 18

Um pêndulo de 0,75 m de comprimento oscila entre os pontos A e B, através de um ângulo de 30° . Qual é o comprimento " l " da trajetória descrita, entre A e B, pela sua extremidade?

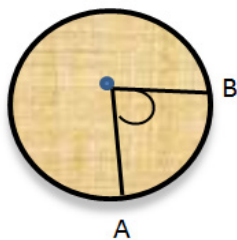
- (a) $l = 30$ cm.
- (b) $l = 38$ cm.
- (c) $l = 75$ cm.
- (d) $l = 40$,cm.
- (e) $l = 39,25$ cm.



QUESTÃO 19

Em uma circunferência de raio 10 cm, um ângulo central de medida 17° determina um arco cujo comprimento, em centímetros, é aproximadamente de:

- (a) 1,75.
- (b) 2,97.
- (c) 1,05.
- (d) 2,90.
- (e) 1,57.



QUESTÃO 20

Considerando que $\pi \cong 3,14$, o número de voltas completas que uma roda de raio igual a 50 cm, incluindo o pneu, dará para que o automóvel se desloque 3,14 quilômetros será de ?

- (a) 1.314.
- (b) 1.769.
- (c) 1.000.
- (d) 1.210.
- (e) 1.570.

INFORMÁTICA

QUESTÃO 21

O Microsoft Word 2010 é um aplicativo utilizado para a edição de textos. A seguir apresentamos duas figuras, uma com um texto e outra com o mesmo texto após a realização de uma operação de formatação.

Texto normal:

Um cliente procurou uma empresa para comprar um carro novo. O vendedor apresentou as diversas opções de veículos que a concessionário tem em seu estoque. Ofereceu ao cliente um test drive para verificar qual é o veículo que mais se adequa ao seu perfil.

O test drive foi realizado e o cliente optou por um veículo mais econômico, com menos opcionais e que se enquadrava no seu orçamento.

Texto após a formatação:

Um cliente procurou uma empresa para comprar um carro novo. O vendedor apresentou as diversas opções de veículos que a concessionário tem em seu estoque. Ofereceu ao cliente um test drive para verificar qual é o veículo que mais se adequa ao seu perfil.

O test drive foi realizado e o cliente optou por um veículo mais econômico, com menos opcionais e que se enquadrava no seu orçamento.

Escolha entre as alternativas apresentadas, quais foram as ações de formatação realizadas pelo usuário do aplicativo.

- (a) Selecionar o texto todo e usar os ícones e
- (b) Selecionar o texto todo e usar os ícones e
- (c) Selecionar o texto todo e usar os ícones e
- (d) Selecionar o texto todo e usar os ícones e
- (e) Selecionar o texto todo e usar os ícones e

QUESTÃO 22

O aplicativo Microsoft Word 2010 possui teclas de atalho que permitem agilizar o uso na edição e formatação de textos. Nesse aplicativo temos atalhos utilizados para desfazer e refazer ações. Selecione, entre as alternativas apresentadas, qual é a combinação de teclas (tecla de atalho) que é utilizada para refazer ou repetir uma ação.

- (a) SHIFT + TAB
- (b) CTRL + Z
- (c) CTRL + TAB
- (d) SHIFT + F10
- (e) CTRL + R

QUESTÃO 23

O aplicativo Microsoft Word 2010 faz parte da suíte de aplicativos do Microsoft Office 2010. Selecione entre as alternativas apresentadas, qual é a sequência realizada para geração de um arquivo no formato pdf a partir do texto em edição.

- (a) Selecionar a aba Arquivo → Imprimir → Fax → Tecla Imprimir.

(b) Selecionar a aba Arquivo → Salvar Como → Selecionar local e o tipo de arquivo PDF → Salvar.

(c) Selecionar a aba Arquivo → Salvar Como → Selecionar local e o tipo de arquivo XPF → Salvar.

(d) Selecionar a aba Inserir → Salvar Como → Imagem → Salvar.



(e) Selecionar a aba Layout Página → Selecionar Orientação e o tipo de arquivo PDF → Salvar.

QUESTÃO 24

A seguir apresentamos uma planilha gerada no aplicativo Microsoft Excel 2010, pertencente a suíte de escritório Microsoft Office 2010.

TELA INICIAL		TELA FINAL	
A	B	A	B
1	Nome	1	Nome
2	Carlos Gomes	2	Carlos Gomes
3	Roberto Santos	3	Roberto Santos
4	Paula Ribeiro	4	Paula Ribeiro
5	Maria do Socorro Silva	5	Maria do Socorro Silva
6	Pedro Rooberto Silva	6	Pedro Rooberto Silva
7	Salvina Maria Ribeiro	7	Salvina Maria Ribeiro
8	Pierre Cardoso	8	Pierre Cardoso
9	Total	9	Total
10	Média Salarial	10	Média Salarial

A figura da Tela Inicial apresenta as células B9 e B10 sem preenchimento. Na figura da Tela Final temos as células B9 e B10 preenchidas. Selecione entre as alternativas apresentadas, qual são as ações realizadas pelo usuário para que essa operação seja realizada.

- (a) Σ (célula B9) e $=MÉDIA(B2:B10)$ (célula B10)
- (b)  (célula B9) e $=SOMA(B2:B9)$ (célula B10)
- (c)  (célula B9) e Σ (célula B10)
- (d) Σ (célula B9) e $=MÉDIA(B2:B9)$ (célula B10)
- (e) $=SOMA(B2:B9)$ (célula B9) e $=MÉDIA(B2:B9)$ (célula B10)

QUESTÃO 25

Entre as funcionalidades disponíveis no aplicativo Microsoft Excel existem teclas de atalho que simplificam a sua utilização. Selecione entre os atalhos apresentados qual é utilizado para aplicar o contorno às células selecionadas.

- (a) CTRL + SHIFT + \$
- (b) CTRL + SHIFT + ^
- (c) CTRL + SHIFT + :
- (d) CTRL + SHIFT + (
- (e) CTRL + SHIFT + &

QUESTÃO 26

Selecione entre as alternativas apresentadas, qual é o ícone utilizado no Microsoft Excel 2010 para habilitar a filtragem das células selecionadas pelo usuário.

- (a) 
- (b) 
- (c) 
- (d) 
- (e) 

QUESTÃO 27

O sistema operacional Microsoft Windows 7 possui diversas ferramentas que podem ser utilizadas para a realização de tarefas. Selecione entre as alternativas apresentadas, qual é o ícone que deve ser utilizado para desfragmentar um disco.

- (a) 
- (b) 
- (c) 
- (d) 
- (e) 



QUESTÃO 28

O sistema operacional Microsoft Windows 7 possui ferramentas que podem ser utilizadas para a realização de diversas tarefas. Selecione entre as alternativas apresentadas, qual é o ícone que deve ser realizado para restauração do sistema.

- (a) 
- (b) 
- (c) 
- (d) 
- (e) 

QUESTÃO 29

Temos várias ferramentas disponíveis no sistema operacional Windows 7 que facilitam a vida dos seus usuários. Selecione entre as alternativas apresentadas, qual é o ícone que deve ser utilizado para obtenção do mapa de caracteres.

- (a) 
- (b) 

- (c) 
- (d) 
- (e) 

QUESTÃO 30

O aplicativo Microsoft Internet Explorer 8 é utilizado para a navegação na internet. Ele contém teclas de atalho que facilitam e agilizam a sua utilização. Selecione entre as alternativas apresentadas quais são as teclas que devem ser acionadas para fechar todas as guias, exceto a que você estiver visualizando.

- (a) CTRL + Q
- (b) CTRL + W ou ALT + F4
- (c) CTRL + K
- (d) ALT + ENTER
- (e) CTRL + ALT + F4

CONHECIMENTOS ESPECÍFICOS

QUESTÃO 31

A atual Constituição da República Federativa do Brasil é a sétima na história do país, e foi promulgada em 5 de outubro de 1988. Considerando o exposto em seu artigo 5º, assinale a alternativa incorreta:

- (a) é livre a manifestação do pensamento, sendo vedado o anonimato.
- (b) é plena a liberdade de associação para fins lícitos, incluindo a de caráter paramilitar.
- (c) é livre o exercício de qualquer trabalho, ofício ou profissão, atendidas as qualificações profissionais que a lei estabelecer.
- (d) é garantido o direito de propriedade.
- (e) ninguém poderá ser compelido a associar-se ou a permanecer associado.

QUESTÃO 32

O legislador Constituinte procurou resguardar diversos direitos fundamentais aos cidadãos brasileiros quando do processo de sua elaboração. Ainda sobre o artigo 5º, assinale a alternativa correta:

- (a) Não haverá prisão civil por dívida, salvo a do responsável pelo inadimplemento voluntário e inescusável de obrigação alimentícia e a do depositário infiel.
- (b) Deverá ser extraditado qualquer estrangeiro condenado por crime político ou de opinião.
- (c) A lei penal retroagirá, exceto para beneficiar o réu.
- (d) O preso não terá direito à identificação dos responsáveis por sua prisão ou por seu interrogatório policial, até a conclusão do inquérito.
- (e) Às presidiárias serão asseguradas condições para que pos-

sam permanecer com seus filhos durante a infância compreendida do nascimento aos 12 anos, em cela.

QUESTÃO 33

A Constituição Federal reconhece a instituição familiar, e entende que ela consiste a base da sociedade, por isso prevê especial proteção do Estado. Sobre o assunto, assinale a alternativa incorreta:

- (a) O casamento religioso tem efeito civil, nos termos da lei.
- (b) Para efeito da proteção do Estado, é reconhecida a união estável entre o homem e a mulher como entidade familiar, devendo a lei facilitar sua conversão em casamento.
- (c) Os direitos e deveres referentes à sociedade conjugal são exercidos igualmente pelo homem e pela mulher.
- (d) Entende-se, unicamente, como entidade familiar a comunidade formada por um casal, homem e mulher.
- (e) Nenhuma das alternativas.

QUESTÃO 34

O Código de Trânsito Brasileiro, instituído pela Lei nº 9503/97, define atribuições das diversas autoridades e órgãos ligados ao trânsito; bem como fornece diretrizes para a Engenharia de Tráfego, além de estabelecer normas de conduta, infrações e penalidades para os diversos usuários do sistema de trânsito. Acerca desse dispositivo legal, assinale a alternativa incorreta:

- (a) Os passageiros de motocicletas, motonetas e ciclomotores só poderão ser transportados utilizando capacete de segurança.
- (b) As provas ou competições desportivas, inclusive seus ensaios, em via aberta à circulação, só poderão ser realizadas mediante prévia permissão da autoridade de trânsito com circunscrição sobre a via.
- (c) É permitido afixar sobre a sinalização de trânsito e respectivos suportes, ou junto a ambos, publicidade, inscrições, legendas e símbolos que não se relacionem com a mensagem da sinalização desde que autorizados pelas prefeituras locais e em períodos festivos de recessos nacionais.
- (d) A educação para o trânsito é direito de todos e constitui dever prioritário para os componentes do Sistema Nacional de Trânsito.
- (e) Nas vias públicas e nos imóveis é proibido colocar luzes, publicidade, inscrições, vegetação e mobiliário que possam gerar confusão, interferir na visibilidade da sinalização e comprometer a segurança do trânsito.

QUESTÃO 35

Quanto ao transporte escolar, dispõe o Código de Trânsito Brasileiro que os veículos especialmente destinados à condução coletiva de escolares, somente, poderão circular nas vias com autorização emitida pelo órgão ou entidade executiva de trânsito dos Estados e do Distrito Federal, exigindo-se, para tanto:

- (a) Equipamento registrador instantâneo inalterável de velocidade e tempo.
- (b) Inspeção anual para verificação dos equipamentos obrigatórios e de segurança.
- (c) Cintos de segurança em número igual aos passageiros da parte frontal do veículo.
- (d) Autorização do Ministério da Educação para a realização do transporte de alunos.

(e) Nenhuma das alternativas.

QUESTÃO 36

Com base no Decreto-Lei nº 2.848, de 7 de dezembro de 1940, na Administração Pública, o funcionário que se apropriar de dinheiro, valor ou qualquer outro bem móvel, público ou particular de que tenha a posse em razão do cargo, ou desviá-lo, em proveito próprio ou alheio, incorre no crime de:

- (a) Prevaricação.
- (b) Peculato.
- (c) Corrupção passiva.
- (d) Lavagem de dinheiro.
- (e) Corrupção.

QUESTÃO 37

De acordo com o disposto na Lei 9455/97, comumente chamada da Lei de Tortura, constitui crime de tortura:

- (a) Corrupção.
- (b) Subtrair, para si ou para outrem, coisa alheia móvel.
- (c) Obter, para si ou para outrem, vantagem ilícita, em prejuízo alheio, induzindo ou mantendo alguém em erro, mediante artifício, ardil, ou qualquer outro meio fraudulento.
- (d) Subtrair coisa móvel alheia, para si ou para outrem, mediante grave ameaça ou violência a pessoa, ou depois de havê-la, por qualquer meio, reduzido à impossibilidade de resistência.
- (e) Constranger alguém com emprego de violência ou grave ameaça, causando-lhe sofrimento físico ou mental com o fim de obter informação, declaração ou confissão da vítima ou de terceira pessoa.

QUESTÃO 38

Em 1994, o Brasil assinou o documento da Convenção Interamericana para Prevenir, Punir e Erradicar a Violência contra a Mulher, também conhecida como Convenção de Belém do Pará. Foi com base nesta Convenção que definiu conceitos importantes sobre a violência contra a mulher, que a Lei Maria da Penha foi escrita.

Acerca da Lei 11340/06, também conhecida como Lei Maria da Penha, assinale a alternativa verdadeira:

- (a) A Lei 11340/06 apenas define o que seria a violência contra a mulher, não prevendo medidas protetoras e de prevenção contra a violência doméstica.
- (b) A política que visa coibir a violência doméstica e familiar contra a mulher far-se-á por meio de ação privativa e exclusiva da União, por meio da Secretaria de Proteção à Mulher.
- (c) No atendimento à mulher em situação de violência doméstica e familiar, a autoridade policial deverá, entre outras providências, garantir proteção policial, quando necessário, comunicando de imediato ao Ministério Público e ao Poder Judiciário.
- (d) Mesmo quando constatada a prática de violência doméstica e familiar contra a mulher, nos termos desta Lei, o juiz somente poderá aplicar, ao agressor, as medidas protetivas de urgência, após a condenação por tribunal específico, e após todos os prazos recursais, o que poderá levar meses, dependendo do volume de processos a serem examinados pelo juiz responsável.

(e) Nenhuma das alternativas.

QUESTÃO 39

Conforme disposto na Lei 4898/65, constitui abuso de autoridade, exceto:

- (a) Ordenar ou executar medida privativa da liberdade individual, sem as formalidades legais ou com abuso de poder.
- (b) Deixar de comunicar, imediatamente, ao juiz competente a prisão ou detenção de qualquer pessoa.
- (c) Levar à prisão e nela deter quem quer que se proponha a prestar fiança, permitida em lei.
- (d) Deixar o Juiz de ordenar o relaxamento de prisão ou detenção ilegal que lhe seja comunicada.
- (e) Nenhuma das alternativas.

QUESTÃO 40

A Declaração Universal dos Direitos Humanos, adotada e proclamada pela Resolução 217 A (III) da Assembléia Geral das Nações Unidas em 10 de dezembro de 1948, declara, exceto, que:

- (a) Todos os seres humanos nascem livres e iguais em dignidade e em direitos. Dotados de razão e de consciência, devem agir uns para com os outros em espírito de fraternidade.
- (b) Ninguém será submetido a tortura nem a penas ou tratamentos cruéis, desumanos ou degradantes, salvo em casos de guerra declarada.
- (c) Todo indivíduo tem direito à vida, à liberdade e à segurança pessoal.
- (d) Ninguém pode ser arbitrariamente preso, detido ou exilado.
- (e) Todo o indivíduo tem direito a ter uma nacionalidade.

FORMOSA - GO - 003/2014

FOR



Instituto Brasileiro de Educação e Gestão

- 003/2014